

Ejercicios de Español de 4°. 1 de abril del 2020.

Las siguientes actividades las puedes imprimir, hacer en tu cuaderno de español o en hojas blancas. (recuerda borrar bien y escribir con buena letra).

I.- Completa las oraciones con la palabra que corresponda.

a) A Miguel no le gusta la sopa de cebolla _____ a Elena.

tan poco – tampoco

b) Había _____ público que tuvieron que cancelar la función

tampoco - tan poco

c) Dibujé un paisaje y me quedó _____ que lo hice al óleo.

tan bien - también

c.- Ella no estudia _____ trabaja.

sino- si no

d.- A Julio le gusta estudiar, pero _____ le gusta más jugar futbol.

sobretudo – sobre todo

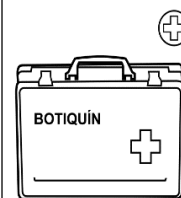
e) Me gusta escuchar música, pero _____ bailar salsa.

también - tan bien

f) Te diré un secreto _____ se lo cuentas a nadie.

si no - sino

II.- Redacta ¿Qué medidas de protección están realizando en casa sobre el COVID19? Colorea las imágenes.



Ejercicios de matemáticas de 4°. 1 de abril del 2020.

Las siguientes actividades las puedes imprimir, hacer en tu cuaderno de matemáticas o en hojas blancas. (recuerda hacer bien los números y letra).

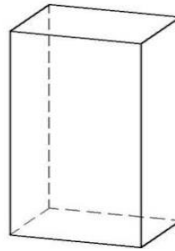
I. Observa el siguiente sólido geométrico y anota en las líneas lo que se te pide.

Número de caras: _____

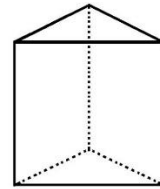
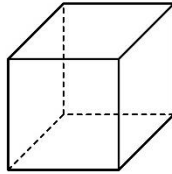
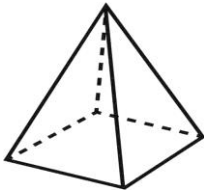
Número de aristas: _____

Número de vértices: _____

Nombre: _____



II.- Anota en la línea el nombre de los siguientes sólidos geométricos.



III.- Contesta

a) ¿Cuáles son las características de los prismas? _____

b) Anota las características de las pirámides _____

IV.- Resuelve las siguientes operaciones:

$$\frac{4}{6} + \frac{3}{5} =$$

$$\frac{7}{8} - \frac{2}{4} =$$

$$5 \frac{3}{5} + 4 \frac{4}{7} =$$